

BALADES LUDIQUES POUR PETITS ET GRANDS

Saint-Bonnet-le-Froid



© Céliopé

Visiter,
se balader,
s'amuser!



L'EUROPE S'ENGAGE
en region
Auvergne-Rhône-Alpes
avec le FEADER



La création d'enquêtes games sur le territoire de la Communauté de Communes du Pays de Montfaucon est financée par l'Union Européenne dans le cadre du Fond Européen Agricole pour le Développement Rural (FEADER) : l'Europe investit dans les zones rurales.



OFFICE DE TOURISME
HAUT PAYS DU VELEY,

37, rue Centrale

43290 Montfaucon-en-Velay

04 71 59 95 73

www.hautpaysduvelay-tourisme.fr



Difficile



3,5 km

2 h 15

Saint-Bonnet-le-Froid

Départ : Place des Champignons

GPS : 45.142653N / 4.435880E

Carnet de route

Soyez vigilants avec vos enfants notamment sur les zones non piétonnes. Le parcours s'effectue sous votre entière responsabilité. La société Randoland et l'Office de Tourisme déclinent toute responsabilité en cas d'accident.

Au départ de la place aux champignons, commencer par observer la croix à l'entrée du parking ❶.

Suivre la direction de Riotord sur la D44 sur environ 100 m. Emprunter le chemin à gauche qui descend dans la prairie sur 650 m. Au croisement des chemins, continuer en face et poursuivre toujours tout droit pour rejoindre la rivière la Saint Bonnette. Observer le panneau à l'entrée du hameau ❷.

Continuer sur la route qui monte pour rejoindre la D44 et partir à droite. Rester sur la route sur 20 mètres environ puis tourner à gauche sur le chemin

qui grimpe. En chemin, répondre à la question ❸.

Au croisement, virer à gauche et entrer dans le bois sur 100 mètres puis prendre à droite. Continuer sur ce chemin jusqu'au prochain hameau et observer le panneau sur la gauche ❹.

Passer entre les maisons pour rejoindre la route et tourner à droite. Continuer sur cette route jusqu'au carrefour et continuer tout droit. Remarquer le panneau sur la gauche de la route à peine plus loin ❺.

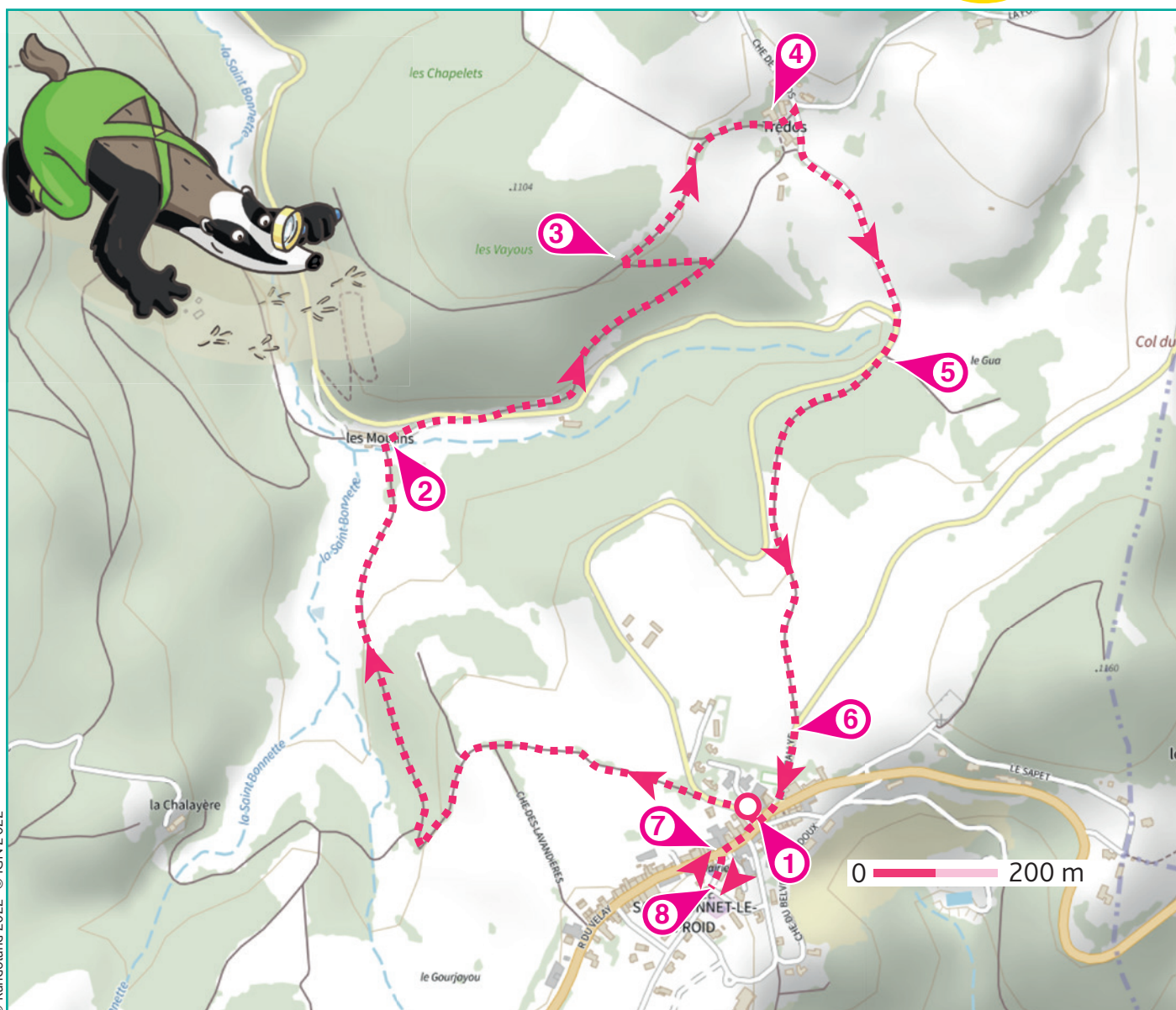
Prendre le prochain chemin sur la gauche qui monte dans les bois

en longeant la route. Rester sur ce chemin jusqu'à la route D18 et observer la croix ❻.

Continuer tout droit en direction du village, traverser prudemment pour aller observer l'église ❼.

Remarquer la statue dites de saint Régis à peine plus loin, à droite de l'église ❽.

Faire demi-tour pour rejoindre le point de départ.



4-6 ans



Saint-Bonnet-le-Froid


L'inspecteur Rando (en bas à gauche) part en balade. Mais où se rend-il et par où va-t-il passer ?

Pour découvrir le chemin emprunté, réponds aux questions de la page suivante.

Chaque réponse t'indiquera l'étape suivante de l'inspecteur Rando dans le labyrinthe.

Attention, il ne doit jamais revenir sur ses pas et emprunte toujours le chemin le plus court !

Chaque fois qu'il trouvera une châtaigne sur sa route, entoure, dans l'ordre, une châtaigne de la frise. En fin de parcours, note dans la case réponse le nombre de châtaignes trouvées.



L'inspect.
Rando



Ta réponse



1 La croix

Quelle photo correspond à la croix de cette place ?

Tu vas découvrir la première étape de l'inspecteur Rando.



2 Le panneau sur la Saint Bonnette

Observe le schéma expliquant le fonctionnement d'un moulin. La partie tout en haut servait à verser les céréales à moudre. Quelles étiquettes correspondent à son nom ?

Ther mie

Tre mie

Tré ma



3 En chemin

Mon 1^{er} est un lieu où pousse le blé, mon 2^e est un oiseau voleur, mon 3^e est la dernière syllabe de « compagnon », mon tout se cueille par ici. De quoi s'agit-il ?




4 Le panneau sur la vie à la ferme

Demande à un « grand » de te lire le premier paragraphe de ce panneau. L'origine du nom du hameau correspond à combien de sources ?



5 Le panneau sur les oiseaux

Parmi ces oiseaux, lequel est en photo sur le panneau ?





6 La croix

Place toi face à la croix et observe l'arbre à ta gauche. Quelle feuille lui correspond ?



7 L'église

Quelle horloge a la même forme que celle de cette église ?



8 La statue dites de Saint Régis

Quel objet N'EST PAS dans les mains de cette statue ?





ÉNIGME

En promenade dans les prés ou en forêt, les grands-parents de Louane sont toujours équipés de petits sacs. Pourquoi ? Ils espèrent tomber sur de nouveaux coins à champignons et si ceux-ci sont comestibles, ils les cueillent pour pouvoir ensuite les cuisiner et se régaler lors d'un bon repas.

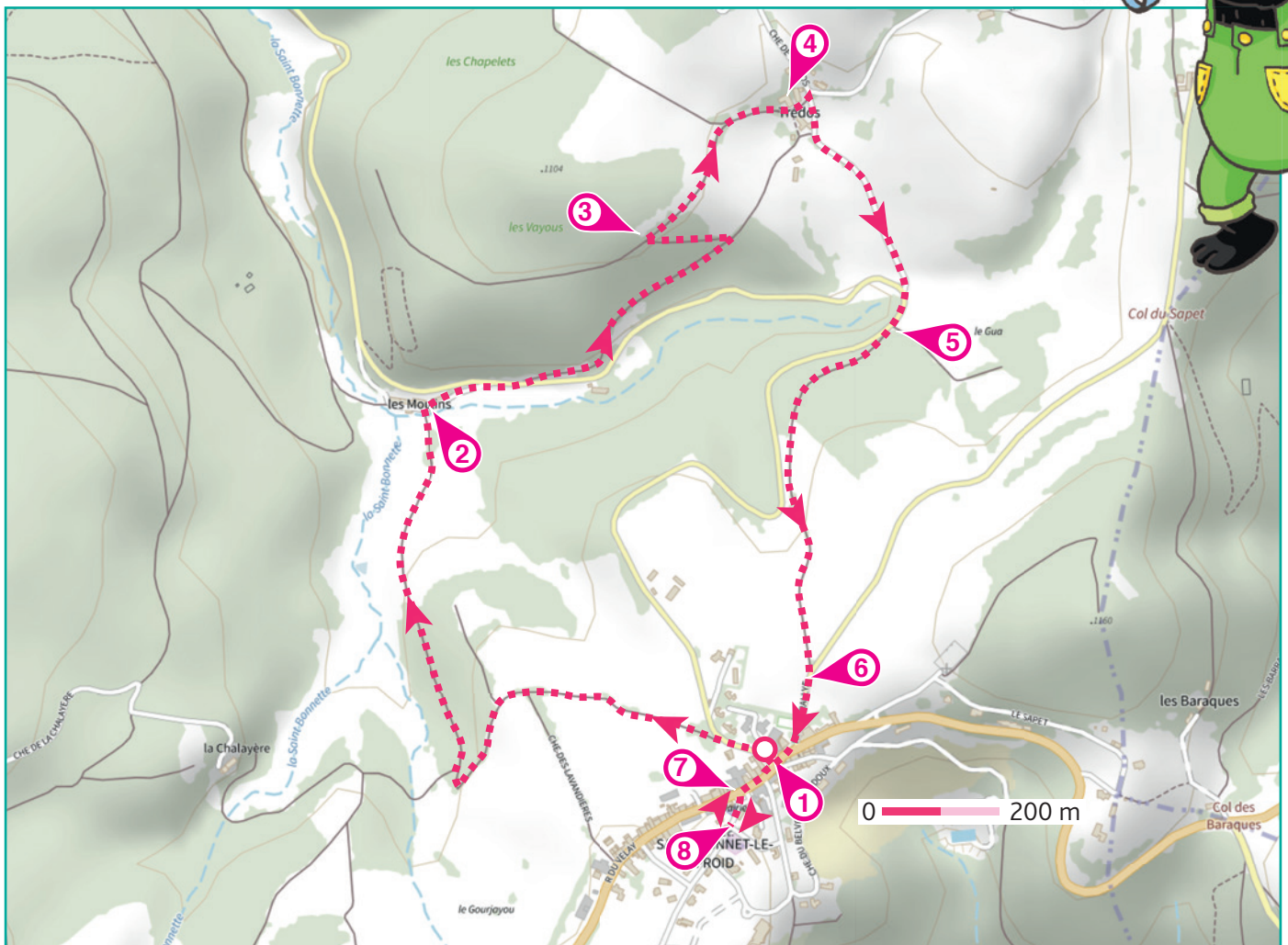
Mais attention, il faut bien s'y connaître en champignons car si certains se mangent, d'autres sont très dangereux. Même si Louane en sait déjà beaucoup sur le sujet grâce à ses grands-parents, elle prend plaisir à en apprendre plus en étudiant les champignons.

Curieux d'étoffer ses connaissances sur les champignons, l'inspecteur Rando a décidé de consacrer un peu de son temps comme Louane à la science qui les étudie. Quel est son nom ? Découvre-le en menant ta propre enquête !



© J. Mazet

Tu disposes du plan ci-dessous et du carnet de route de la page parent. À l'emplacement des pastilles numérotées, lis les indications qui te permettront de résoudre l'énigme principale. À la fin de ta balade, rends-toi à l'Office de Tourisme ou sur le site randoland.fr pour vérifier ta réponse.





Pour toutes les activités de cette fiche, reporte dans la grille de bas de page les réponses trouvées en face des nombres correspondants.

1 La croix

Quelle croix correspond à celle que tu vois ?



7



10



13

Remplace le nombre sous la bonne photo par la lettre qui a cette place dans l'alphabet.

Ex. : 1 = A ; 2 = B ; etc.

Reporte-la dans la grille.

2 Le panneau sur la Saint Bonnette

Observe le mécanisme du moulin ! Quel élément situé juste avant la meule tournante permet de « diriger » le grain dedans ?

Note son nom dans la grille.

3 En chemin

Découvre le nom d'une amanite toxique avec le jeu suivant !

Mon 1^{er} est le nom de l'ami de la fée Clochette, Peter ... ; les champignons poussent dans mon 2^e ; mon tout est une créature noire mais aussi le nom d'une amanite.

Écris correctement, dans la grille, le mot découvert (il s'écrit comme le nom de l'animal !).

4 Le panneau sur la vie à la ferme

En quelle année le hameau s'appelait-il Tresdotz ? Range dans l'ordre décroissant (du plus grand au plus petit) les chiffres qui la composent.

□ > □ > □ > □

Note le chiffre de la case bleutée, en lettres, dans la grille.

Ex. : 2019 → 9 > 2 > 1 > 0 = UN

5 Le panneau sur les oiseaux

Fin août, le circaète part ailleurs. Vers quel continent vole-t-il ?

Océanie

Afrique

Amérique du sud



ÉLÉANORE

MATHILDE

SULLIVAN


Reporte dans la grille le prénom noté sous la bonne image de ce continent.

6 La croix

D'après le poteau de balisage, à quelle altitude se trouve Saint-Bonnet-le-Froid ? Additionne tous les chiffres qui la composent.

Ex. : 1945 = 1 + 9 + 4 + 5 = 19

Dans quelle suite logique peux-tu inscrire ton résultat ?



Note dans la grille la ville inscrite sur la bonne locomotive.

7 L'église

Compte les flèches au niveau de l'arrondi de la porte d'entrée ! Dans quelle expression ci-dessous peux-tu inscrire ce nombre ?

MIA : Les ... doigts de la main

JOY : Blanche-Neige et les ... nains

Inscris le prénom de celle qui a fait la bonne proposition dans la grille.

8 La statue dites de Saint Régis

Quel mot est gravé dans le livre que la statue tient dans sa main ? Classe ses lettres dans l'ordre alphabétique.

Ex. : BALADE → AABDEL

Note ta réponse dans la grille.

Grille réponse

Circuit n°4317201M

1	◇								
2	◇								
3	◇								
4	◇								
5	◇								
6	◇								
7	◇								
8	◇								



Remets en ordre les caractères des cases colorées pour trouver le nom de l'étude des champignons.

Ta réponse: [Colorful blocks representing the answer]



Saint-Bonnet-le-Froid

ÉNIGME

Le week-end après la Toussaint, c'est la grande fête à ne pas manquer dans la commune car les champignons sont à l'honneur. Si certains viennent pour les animations ou pour déguster des recettes préparées par les chefs du coin, d'autres font leurs emplettes sur le marché, espérant trouver à bon prix des champignons de qualité.

Ne pouvant sortir, la maman de Paulo lui confie la mission d'acheter ces champignons au petit goût de noisette qu'elle prépare tout simplement à la poêle avec un peu de beurre, d'ail et de persil. Un délice ! Pressé de déguster ce plat, Paulo se rend à toute vitesse au marché mais arrivé devant l'étal, impossible de retrouver le nom de ce champignon.

Avec l'inspecteur Rando, sauras-tu découvrir le nom de ce champignon au subtil goût de noisette dont Paulo a oublié le nom ?



© ed

FICHES DESCRIPTIVES DE CHAMPIGNONS

Trompette-de-la-mort



1

Chapeau : 2 à 15 cm
Pied : 2 à 9 cm

Girolle



2

Chapeau : 3 à 10 cm
Pied : 2 à 7 cm

Coprin chevelu



3

Chapeau : 5 à 20 cm
Pied : 5 à 30 cm

Tu disposes du plan ci-dessous et du carnet de route de la page parent. À l'emplacement des pastilles numérotées, lis les indications qui te permettront de résoudre l'énigme principale. À la fin de ta balade, rends-toi à l'Office de Tourisme ou sur le site randoland.fr pour vérifier ta réponse.

Coulemelle



4

Chapeau : 5 à 25 cm
Pied : 10 à 25 cm

Cèpe de Bordeaux



5

Chapeau : 4 à 25 cm
Pied : 6 à 20 cm

Chanterelle jaune



6

Chapeau : 1 à 5 cm
Pied : 3 à 8 cm

Pied bleu



7

Chapeau : 4 à 15 cm
Pied : 2 à 12 cm

Rosé-des-prés



8

Chapeau : 4 à 10 cm
Pied : 4 à 10 cm

Agaric des Jachères



9

Chapeau : 5 à 15 cm
Pied : 5 à 15 cm





Lors du passage devant chacun des indices lis attentivement les indications fournies. Elles te permettront de résoudre l'énigme posée au verso de cette page.

1 La croix

L'inspecteur Rando a photographié la croix présente sur cette place. Laquelle est la bonne ?



50 - (7 x 7)



20 - (6 x 3)



30 - (9 x 3)

Résous l'opération notée sous la bonne photo.

Ton résultat est le même que la taille minimale du chapeau d'un champignon de la liste. Ce n'est pas celui recherché, raye-le !

2 Le panneau sur la Saint Bonnette

« Alors que la meule tournante s'active pour moudre le grain, je fais aussi ma part de travail en restant immobile. C'est pour cela qu'on m'appelle la meule... »

Toutes les lettres du mot découvert, sauf le N, apparaissent ensemble dans le nom d'un des champignons. Ce n'est pas le bon, barre-le de la liste !

3 En chemin

Deux amis ont proposé une expression avec le mot champignon. Laquelle signifie « accélérer » ?

AMEL : Pousser comme un champignon.

JENNIFER : Appuyer sur le champignon.

Le nom du champignon qui rime avec le prénom de celle qui a fait la bonne proposition est à supprimer de la liste.

4 Le panneau sur la vie à la ferme

Le nom de ce hameau a évolué au fil des siècles, passant de Tresdos à Tredos. Combien d'années se sont écoulées pour ce changement de nom ?

Fais ton calcul ci-dessous :

Le chiffre des centaines de ton résultat t'indique la taille minimale d'un pied de champignon de la liste. Élimine-le, ce n'est pas celui recherché !

5 Le panneau sur les oiseaux

Complète ce texte à trous concernant l'un des oiseaux à l'aide des lettres ci-dessous :

A B E E E G I I I L N O
P Q R R R S S S T U V V

Chez le bec-croisé des _ _ _ _ _ , on différencie le mâle et la femelle à la couleur de leur poitrine : pour lui, elle est rouge _ _ _ _ _ ; pour elle, _ _ _ _ _ .

Les lettres restantes te permettent d'écrire le nom d'une couleur.

Le champignon dont la pastille numérotée est de cette couleur est à supprimer de la liste.

6 La croix

Quelle altitude est inscrite sur le poteau de balisage de Saint-Bonnet-le-Froid ? Additionne tous les chiffres qui la composent. Multiplie ensuite ce nombre par 4.

Ôte de la liste le champignon dont la taille maximale du chapeau correspond à ton résultat.

7 L'église

Sur le monument aux morts, deux hommes ont comme initiale de leur prénom un P. Choisis celui dont le nom de famille est le plus long et compte le nombre de consonnes dans celui-ci !

Le nombre découvert correspond à la pastille numérotée d'un des champignons. Raye-le de la liste, ce n'est pas le bon !

8 La statue dites de Saint Régis

Quel mot est gravé dans le livre qu'il tient dans l'une de ses mains ? Calcule sa valeur, sachant qu'une voyelle vaut + 10 et une consonne - 3.

Ex. : INDICE = 10 - 5 - 5 + 10 - 5 + 10 = 15

Supprime de la liste le champignon dont la taille maximale du pied est identique à ton résultat.

Circuit n° 4317201G

Tu devrais avoir retrouvé le nom de ce champignon au petit goût de noisette.

Ta réponse:

Tu peux vérifier ta réponse à l'Office de Tourisme ou sur le site internet Randoland.fr